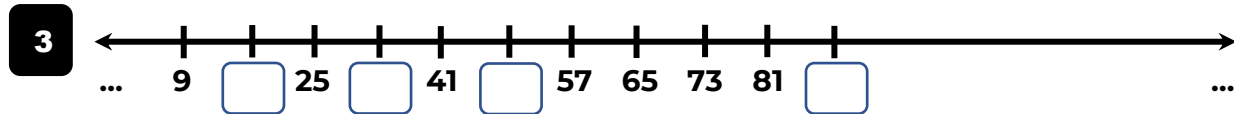
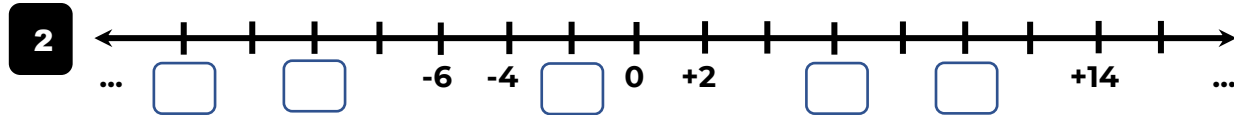
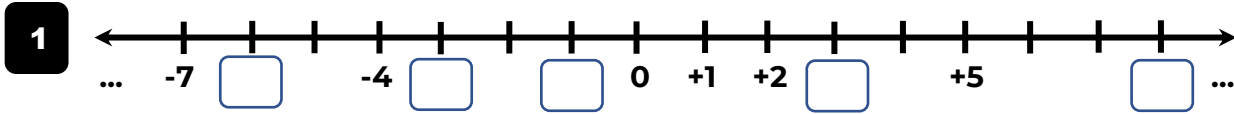


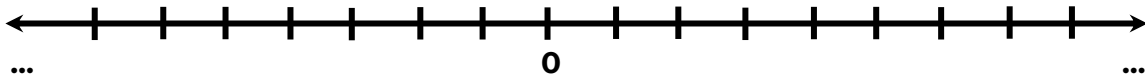
NÚMEROS ENTEROS-LA RECTA NUMÉRICA

PRÁCTICA

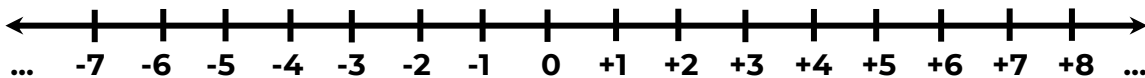
I. PARTE. Coloca en el recuadro los números enteros que faltan:



II. PARTE. Representa cada número en la recta numérica según corresponda:

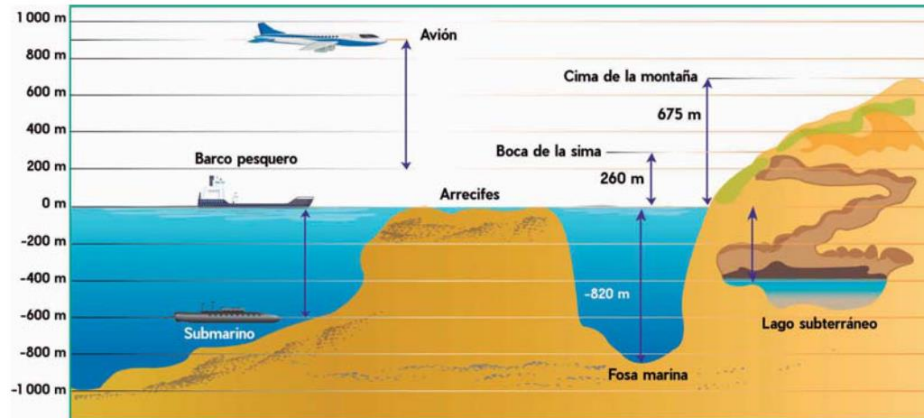


III. PARTE. Analiza y luego responde:



- 1) ¿Cuál es el sucesor de -5? _____
- 2) ¿Cuál es el antecesor de 3? _____
- 3) ¿Cuál es el antecesor del sucesor de -2? _____
- 4) ¿Cuántos números enteros están entre -3 y 4? _____
- 5) ¿Qué número entero se encuentra cinco unidades a la izquierda de 2? _____
- 6) ¿Qué número entero se encuentra dos unidades a la derecha de -6? _____
- 7) Escribe los tres números menores inmediatos a -1 _____
- 8) ¿Qué signo tienen todos los números a la izquierda del 0? _____
- 9) ¿Cuál es el antecesor del antecesor de 0? _____
- 10) ¿Cuántos números enteros están entre -1 y 1? _____

IV. PARTE. Observa la siguiente imagen y contesta con números enteros las preguntas:



Obtenida de: Álvarez, F., Garrido, L., & Ruiz, A. (2004)

- 1) ¿A qué profundidad se encuentra el submarino? _____
- 2) ¿A qué altura se encuentra el avión? _____
- 3) ¿Qué altura alcanza la montaña sobre el nivel del mar? _____
- 4) ¿Qué profundidad tiene la fosa marina? _____
- 5) ¿El barco a qué profundidad está? _____
- 6) ¿Cuán profundo está el lago subterráneo con respecto al nivel del mar? _____

V. PARTE. Resuelve los siguientes problemas:

- 1) Mateo entra al elevador en el piso 6, bajó 2 pisos y luego subió 4 pisos. ¿En qué piso se encuentra?
- 2) Un atleta parte del kilómetro 10 de una carretera, corre 5 kilómetros en línea recta a la derecha, luego retrocede 7 kilómetros y luego avanza 2 kilómetros a la derecha. En qué kilómetro se encuentra.
- 3) Por la mañana un termómetro marcaba 6° bajo cero. La temperatura baja 5° C a lo largo de la mañana. ¿Qué temperatura marca al medio día?
- 4) Una persona nació en el año 7 antes de Cristo y se casó a los 22 años. ¿En qué año se casó?